
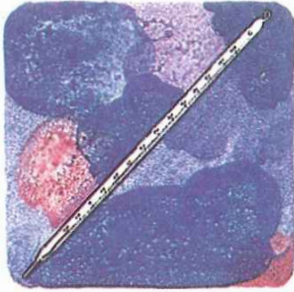


ԴԱՍ 10

ՉԱՓԵԼՈՒ ԳՈՐԾԻՔՆԵՐ

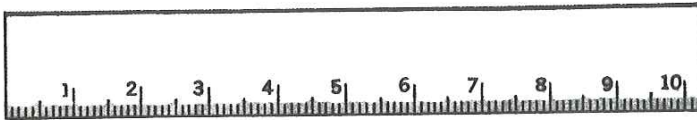
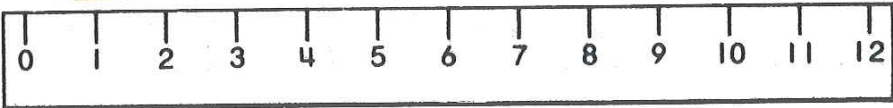
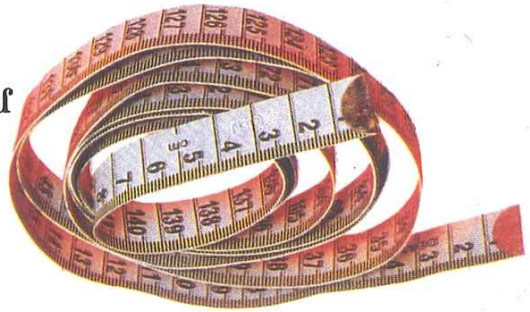


Գրէ՛ տուփիկներուն մէջ գործիքներուն անունը:
Ի՞նչ կրնաք չափել իւրաքանչիւր գործիքով:

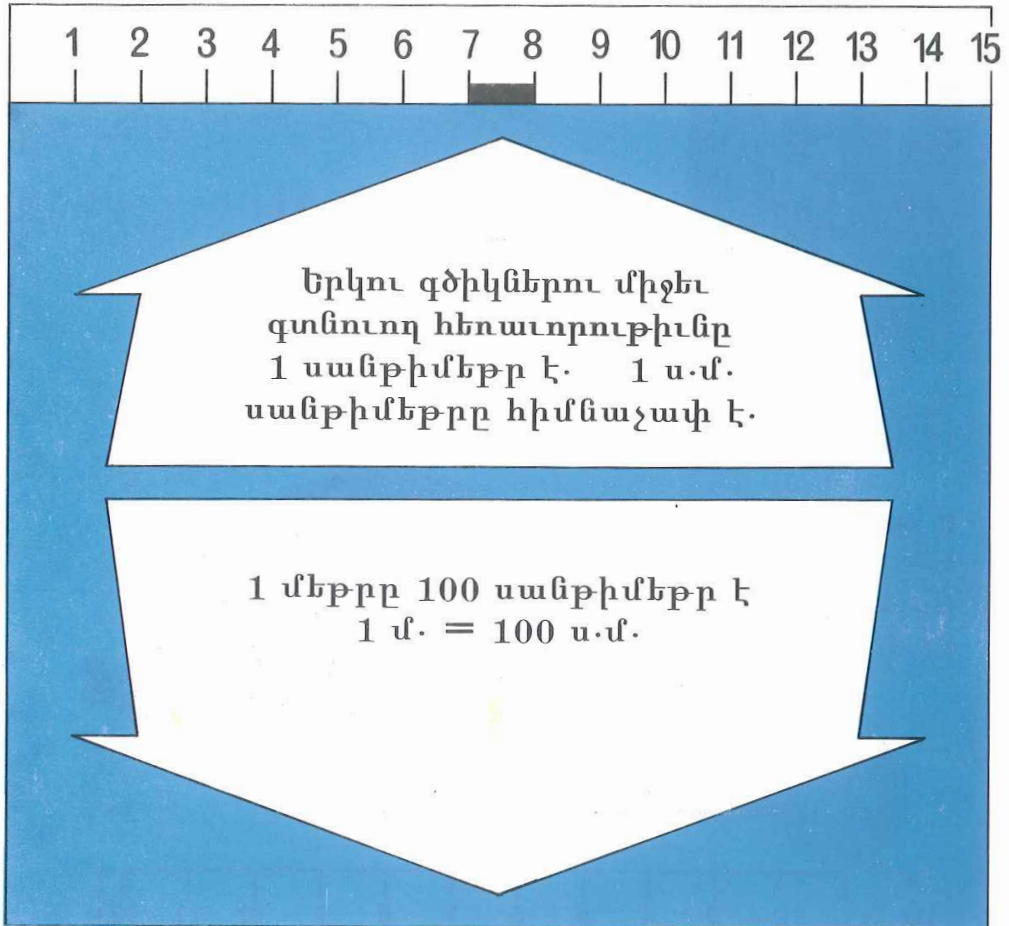


Տղան ի՞նչ կը չափէ:
Ինչո՞վ:

Մերը
հեռադրութիւն կամ
միջոց չափելու
հիմնաչափն է:




Դիտե՛ք՝ քանակը եւ համարէ թիւերը:



Ա × \longleftrightarrow × Բ

Ձափե՛ք Ա. եւ Բ. կէտերու հեռաւորութիւնը:

Ա.Բ = ս.մ.




Ձափե՛ք ԳԴ. կէտերու հեռաւորութիւնը: ԳԴ = սմ.
ԳԴ կէտերու հեռաւորութիւնը կը կոչուի *երկայնք*:
Ձափե՛ք ԳԵ կէտերու հեռաւորութիւնը: ԳԵ = սմ.
ԳԵ. կէտերու հեռաւորութիւնը կը կոչուի *լայնք*:

Ձափե՛ք գիտութեան գիրքիդ երկայնքն ու լայնքը:

երկայնք = սմ.:
լայնք = սմ.:





Չափէ՛ ժի կէտերու հե-
նաւորութիւնը:

ժի = սմ.:

ժի կէտերու հեռաւոր-
ութիւնը կը կոչուի
բարձրութիւն:

Ուրեմն,
գաւաթին բարձրու-
թիւնն է սմ.:

Գծէ գաւաթ մը եւ չափէ՛ անոր բարձրութիւնը:




Զափե՛ տուփին բարձրությունը սմ.
լայնքը սմ.
երկայնքը սմ.

Գծե՛ տուփ մը եւ չափե՛ բարձրությունը, լայնքը,
երկայնքը:

Ո՞րքան է հասակդ: Զափե՛: սմ.:

ԸՍԷ՛, ՈՒՐԻՇ Ի՞ՆՁ ԳԻՏԵՍ:




Ջուրը կրնայ ունենալ երեք տարբեր վիճակներ:

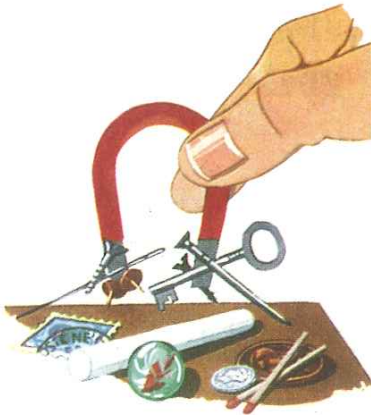


Ամպերը ի՞նչպես կը կազմը-նուին:

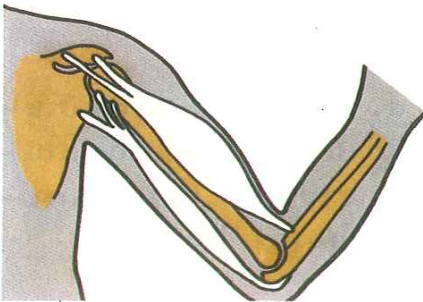
ԸՍԷ՛, ՈՒՐԻՇ Ի՞ՆՁ ԳԻՏԵՍ:



Սղոցը աշխատանքը դիւրացնող գործիք մըն է:




Մագնիսը փաշողութեան ոյժ ունի՞:



Բազմաթիւ ոսկորներ իրարու կցուած են յօդերու միջոցով:
Ի՞նչ է մկաններու դերը:

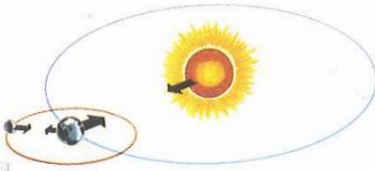
ԸՍԷ՛, ՈՒՐԻՇ Ի՞ՆՁ ԳԻՏԵՍ:



Փիղը ամենախոշոր ստնա-
ւոր, խոտակեր, թանձրա-
մորթ, չորֆոտանի անա-
սունն է:



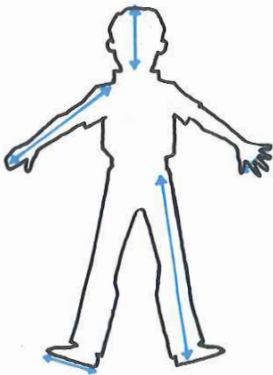
Ողնաւոր անասունները
կմախֆ ունի՞ն:



Մոլորակները արեւուն
շուրջ կը շրջին:



Պտուղները ունին մէկ կամ
բազմաթիւ կուտեր:
Կուտերը կը գտնուին պը-
տուղներուն մէջ:



Գիտե՞ս, ի՛նչ կը գործա-
ծենք հեռաւորութիւն (հա-
սակ – լայնք – բարձրու-
թիւն) չափելու համար: